


Lernspass Deutsch is a brilliant activity based book on the soccer theme.

It contains a lot of activities on cross curriculum themes – german, English (which can be adjusted for german use), maths, and social skilling (understanding rules, giving directions)



The book can be bought through the Verlag Kosmos

Titel: Lernspass Fußball 2. Klasse

Reihe: Fächerübergreifendes Lernen - Deutsch, Mathe, Englisch, Sachkunde

Autorin: Annette Weber

Illustrationen: Manfred Tophoven

Verlag: [Lentz-Kosmos](http://www.lentz-kosmos.de)

empf. Preis: 4,95 Euro

32 Seiten

Erscheinungsjahr: 2006

Or try [amazon.de](http://amazon.de)

<http://www.amazon.de/exec/obidos/ASIN/3440095592/lernklickde0e-21>

for new and used from 3 Euro.



KOSMOS

**2.**  
**Klasse**

Fächerübergreifendes Lernen


Deutsch

Mathe

Englisch

Sachkunde

# Lernspaß Fußball





# Inhalt

|   | Seite |
|---|-------|
| <b>Deutsch</b>                            |       |
| Einem Text Informationen entnehmen        | 2     |
| Erweiterung des Wortschatzes              | 10    |
| Wortfeldarbeit am Verb                    | 18    |
| Kreativer Umgang mit Sprache              | 26    |
| <b>Mathematik</b>                         |       |
| Zahlenverständnis im Bereich bis 100      | 4     |
| Zahlen ordnen im Zahlenraum bis 100       | 12    |
| Multiplikation wiederholen                | 20    |
| Addition wiederholen                      | 28    |
| <b>Sachkunde</b>                          |       |
| Erlernen von Regeln                       | 6     |
| Erlesen einer Orts-Skizze                 | 14    |
| Lebensmittel und ihre Bestandteile        | 22    |
| <b>Englisch</b>                           |       |
| Persönliche Beschreibung in Englisch      | 8     |
| Farben und Kleidung auf Englisch benennen | 16    |
| Erlernte Vokabeln wiederholen             | 24    |



## Dieses Fußballbuch gehört ...

Vorname:

\_\_\_\_\_

Lieblingsverein:

\_\_\_\_\_

Nachname:

\_\_\_\_\_

Mein Lieblingsspieler:

\_\_\_\_\_

Alter:

\_\_\_\_\_

Zeichen meines Lieblingsvereins:

Wohnort:

\_\_\_\_\_

Straße:

\_\_\_\_\_

Telefonnummer:

\_\_\_\_\_







## Deutsch



Hallo, ich bin Felix Fritsch. Ich bin 17 Jahre alt. Ich liebe Fußball und trainiere die F-Jugend von Blau-Gelb Dörehagen. Meine Mannschaft und ich begleiten dich durch dieses Buch.



Jan



Michi



Coral

Hallo, ich heiße Coral. In meiner Freizeit spiele ich den ganzen Tag Fußball. Ich bin Linksaußenspielerin in unserem Verein Blau-Gelb Dörehagen. Meine steilen Pässe sind gefürchtet.



Piet



Viktor



Benny

Tag, ich heiße Benny. Ich bin Bayern-Fan. In unserem Verein bin ich Torwart. Außer Fußball spiele ich auch noch Handball. Ich habe auch einen Hund. Er heißt Balu. Balu ist unser Maskottchen.



Susi



Felix



Hakan

Hallo, ich heiße Antonio. Ich bin Italiener, aber ich bin in Deutschland geboren. Ohne Fußball kann ich nicht leben. Mein Lieblingsverein ist der AC Mailand. Und die nächste Weltmeisterschaft gewinnt natürlich Italien.



Leonie



Kathi



Antonio



## Einem Text Informationen entnehmen

Wenn sie alle nach dem Training durcheinander schnattem, kann ich mir gar nicht merken, wer was erzählt hat. Weißt du es noch? Dann ziehe einen Strich zu der Person, die den Satz gesagt hat.



Ich habe einen Hund.

Ich bin Bayern-Fan.

Ich bin Linksaußenspielerin.

Ich bin Italiener.

Ich spiele den ganzen Tag Fußball.

Ohne Fußball kann ich nicht leben.

Ich heiße Coral.

Italien wird Weltmeister.

Außer Fußball spiele ich noch Handball.

Ich heiße Antonio.

Mein Lieblingsverein ist der AC Mailand.

Balu ist unser Maskottchen.

Ich bin im Verein Blau-Gelb Dörenhagen.

Ich heiße Benny.

Meine steilen Pässe sind gefürchtet.

Ich bin Torwart.

Ich bin in Deutschland geboren.



Coral



Benny



Antonio





# Mathematik



Ich bin doch gar nicht schlecht im Zeichnen, oder? Wenn du das Bild ausrechnest und ausmalst, siehst du unseren Viktor im Sturm auf das gegnerische Tor.

Rechne und male an:

$20 = \text{braun}$

$35 = \text{schwarz}$

$15 = \text{gelb}$

$40 = \text{blau}$

$30 = \text{orange}$

$45 = \text{grün}$







## Sachkunde



Fußball ist ein Mannschaftssport. Wenn man das Spiel gewinnen will, muss man viele Regeln beachten, sonst bekommt man schnell die rote Karte.

Hier sind sechs Situationen abgebildet. Male zum Bild eine rote Karte, wenn etwas verboten ist.

1



2



3



4



5



6





## Erlernen von Regeln

Oh Mann, war das ein Spiel gegen die Mannschaft vom FC Altenbeken. Gleich in der ersten Minute schoss Leonie ein Tor. Und danach ging es so richtig zur Sache. Tom vom FC Altenbeken rannte zum Tor. Piet hielt ihn fest. Tom boxte Piet in den Magen. Da lief Susi zu Tom und schrie ihn an. Jetzt kam der Schiedsrichter. Er zeigte Susi die rote Karte. Da rannte Hakan zum Schiri und zeigte ihm den Mittelfinger.



Lies den Text noch einmal ganz genau. Es gab vier rote Karten. Weißt du, für wen? Schreibe auf.

Schreibe noch einmal auf, was beim Spiel verboten ist. Dazu musst du die Buchstaben in die richtige Reihenfolge bringen.







## Deutsch



Hier siehst du unsere Fußballausrüstung. Suche die passenden Namenwörter aus dem Kästchen und schreibe sie auf.

Schienbeinschoner • Stollen • Trikot •  
Fußballschuhe • Stutzen • kurze Hose



1. \_\_\_\_\_
2. \_\_\_\_\_
3. \_\_\_\_\_
4. \_\_\_\_\_
5. \_\_\_\_\_
6. \_\_\_\_\_



Immer einer von uns muss nach dem Spiel alle Trikots waschen.  
Es geht nach dem Alphabet.

Ordne unsere Namen in einer alphabetischen Liste.

Die Spieler heißen: **Jan, Michi, Coral, Piet, Viktor, Benny, Susi, Hakan, Leonie, Kathi** und **Antonio**.

| Wer wäscht die Trikots? | 6.  |
|-------------------------|-----|
| 1.                      | 7.  |
| 2.                      | 8.  |
| 3.                      | 9.  |
| 4.                      | 10. |
| 5.                      | 11. |



## Erweiterung des Wortschatzes

Diese Dinge sollten in deiner Tasche sein, wenn du zum Training gehst. Weißt du, warum?



um zu duschen.

damit dir nicht kalt wird.

um den Durst zu löschen.

damit du nicht rutschst.

zum Abtrocknen.

damit du dich gut bewegen kannst.

damit du dich nicht verletzt.

damit du nicht schwitzt.








# Mathematik



Die F-Jugend trainiert auf einem halben Fußballfeld.  
Es ist 90 m lang.  
Wie weit müssen die Spieler schießen, um ein Tor zu machen?



Torwart



Leonie

Jan

Antonio

Kathi

Coral



Trage in die Tabelle ein:

|         |  |   |
|---------|--|---|
| Hakan   |  | m |
| Jan     |  | m |
| Coral   |  |   |
| Michi   |  |   |
| Antonio |  |   |

|        |  |
|--------|--|
| Kathi  |  |
| Benny  |  |
| Piet   |  |
| Susi   |  |
| Leonie |  |
| Viktor |  |




# Zahlen ordnen im Zahlenraum bis 100

Gestern haben wir so geschossen:

|         |      |
|---------|------|
| Antonio | 13 m |
| Michi   | 33 m |
| Hakan   | 76 m |
| Leonie  | 71 m |
| Coral   | 31 m |

|        |      |
|--------|------|
| Jan    | 46 m |
| Piet   | 89 m |
| Susi   | 78 m |
| Viktor | 16 m |
| Benny  | 52 m |
| Kathi  | 66 m |



Ordne nach der Größe. Beginne mit der kleinsten Entfernung:

|    |         |      |
|----|---------|------|
| 1. | Antonio | 13 m |
| 2. | Viktor  | m    |
| 3. |         |      |
| 4. |         |      |
| 5. |         |      |

|     |  |  |
|-----|--|--|
| 6.  |  |  |
| 7.  |  |  |
| 8.  |  |  |
| 9.  |  |  |
| 10. |  |  |
| 11. |  |  |





## Sachkunde



Heute haben wir ein Spiel gegen den SV Sande. Unser Trainer hat mir einen Zettel geschrieben, damit ich den Weg zum Fußballplatz finde.

Du startest am Nesthauser See.  
Fahre die Nesthauser Straße geradeaus, bis zu einer Bank. Biege dort rechts in den Anemonenweg ein.  
Danach geht es die erste Straße links in den Fliederweg.  
Du überquerst eine Brücke, die über die Lippe führt.  
Fahre weiter bis zur Kirche.  
Biege hinter der Kirche rechts in den Kirchweg ein und fahre bis zur Burg.  
Hinter der Burg biegst du links in den Grünen Weg ein.  
Dort siehst du auf der rechten Seite den Sportplatz.

Coral wohnt in der Janoschstraße.  
Sie will auch zum Spiel kommen.  
Kannst du ihr den Weg erklären?



1. Fahre die \_\_\_\_\_ geradeaus.
2. Biege an der Ecke \_\_\_\_\_ in den \_\_\_\_\_ ein.
3. Fahre bis zur \_\_\_\_\_.  
Biege dann \_\_\_\_\_ in den \_\_\_\_\_.
4. Fahre über die \_\_\_\_\_ des Flusses \_\_\_\_\_.



## Erlesen einer Orts-Skizze

5. Biege noch einmal \_\_\_\_\_ in den \_\_\_\_\_.
6. An der \_\_\_\_\_ biegst du \_\_\_\_\_ in den \_\_\_\_\_.
7. Der \_\_\_\_\_ liegt auf der \_\_\_\_\_ Seite.

Ampel • rechts • Sportplatz • Rosenweg • Brücke •  
Janoschstraße • Anemonenweg • Lippe • rechts • links •  
Kirchweg • Burg • links • rechten • Grünen Weg

Ortsplan von Sande





## Farben und Kleidung auf Englisch benennen

Und hier ist Lee mit seiner kompletten Fußballkleidung.  
Male einen Pfeil vom Wort zur Kleidung.



Lee has  
a red flag.

Lee has  
black shoes.



Lee has  
a yellow cap.

Lee has  
blue socks.

Lee has  
black shorts.

Lee has  
a red shirt.

Lee has  
a blue jacket.




# Lebensmittel und ihre Bestandteile

Zu einer gesunden Ernährung gehört auch **Fett**.  
Aber achte darauf, dass du nicht zu viel Fettiges isst,  
sonst wirst du zu dick.  
Fett findest du in Wurst, Käse und Fleisch.



Besonders wichtig sind **Vitamine und Mineralstoffe**.  
Du findest sie in Gemüse und Obst.



**Ballaststoffe** helfen dir, die Nahrung durch den Körper  
zu transportieren.  
Du findest sie in Müsli, Vollkornbrot, Gemüse und Obst.



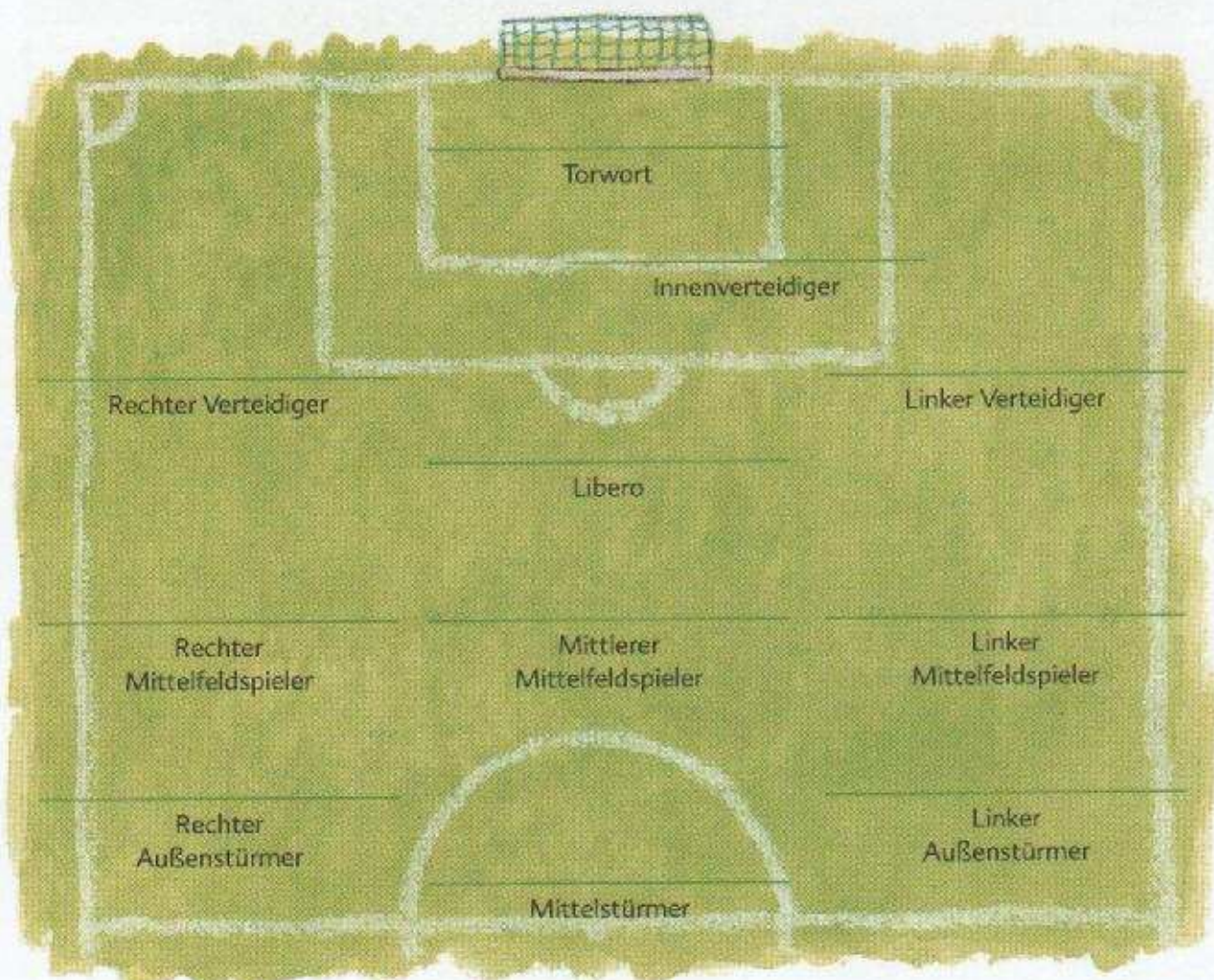


# Kreativer Umgang mit Sprache

In dieser Nacht hatte ich einen wahnsinnig spannenden Traum.  
Die besten Spieler der ganzen Welt waren zu einer  
Fußballmannschaft zusammen gekommen.




Stelle deine Traummannschaft zusammen.  
Welchen Spieler setzt du auf welche Position?



Wie nennst du deine Mannschaft? \_\_\_\_\_

Male ein Vereins-  
wappen für sie.







# Mathematik



Die Saison ist zu Ende. Rechne den Tabellenstand aus!

Es gibt

3 Punkte bei Sieg

1 Punkt bei Unentschieden

0 Punkte bei Niederlage

Rechne aus:

Der FC Altenbeken  
spielte folgendermaßen:

- einen Sieg
- dreimal unentschieden
- eine Niederlage

Wie viele Punkte  
sind das?



Punkte

Der FC United  
spielte folgendermaßen:

- zwei Siege
- zweimal unentschieden
- eine Niederlage

Wie viele Punkte  
sind das?



Punkte

Blau-Gelb Dörenhagen  
spielte folgendermaßen:

- drei Siege
- einmal unentschieden
- eine Niederlage

Wie viele Punkte  
sind das?



Punkte

Der SV Sande  
spielte folgendermaßen:

- einen Sieg
- einmal unentschieden
- vier Niederlagen

Wie viele Punkte  
sind das?



Punkte

Der VfB Borchten  
spielte folgendermaßen:

- einen Sieg
- viermal unentschieden
- keine Niederlage

Wie viele Punkte  
sind das?



Punkte

Die Neuhaus-Kickers  
spielten folgendermaßen:

- drei Siege
- einmal unentschieden
- zwei Niederlagen

Wie viele Punkte  
sind das?



Punkte



## Addition wiederholen

Jetzt sind wir aber gespannt, auf welchem Platz wir gelandet sind. Kannst du die Tabelle ausrechnen? Trage die Vereine nach dem Punktestand ein.



| Platz-nummer | Vereins-wappen | Name des Vereins | Punkte |
|--------------|----------------|------------------|--------|
| 1.           |                |                  |        |
| 2.           |                |                  |        |
| 3.           |                |                  |        |
| 4.           |                |                  |        |
| 5.           |                |                  |        |
| 6.           |                |                  |        |

Male die drei Sieger mit ihren Vereinswappen auf das Siegertreppchen.

